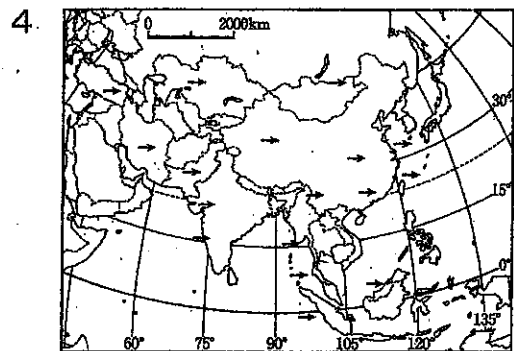
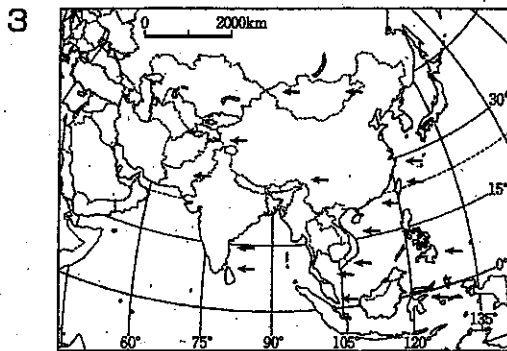
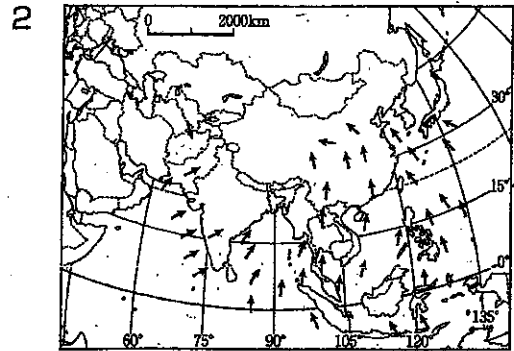
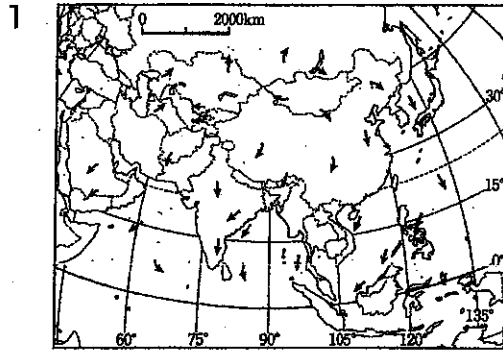




(2) 健太郎さんは、アジア州の自然と産業についてまとめました。次の問いに答えなさい。

① アジア州の沿岸部の気候は、季節風<sup>せいせифう</sup>に大きな影響を受けています。夏の季節風を正しく示しているものを、次の1～4から1つ選びなさい。 ㉒ ㉓

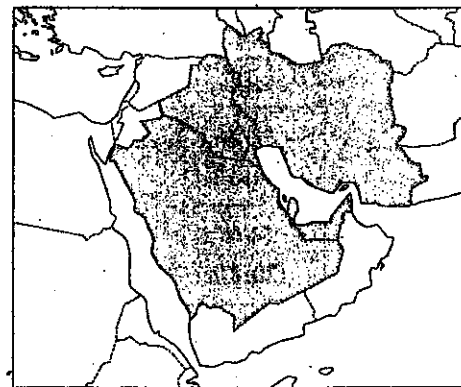


② 右の資料3中に  で示したアジア州の国々は、ある資源の生産量や値段について取り決めを行う組織に加盟しています。  の国々で共通して生産がさかんな資源を、次の1～4から1つ選びなさい。

㉔ ㉕

- |      |        |
|------|--------|
| 1 石油 | 2 鉄鉱石  |
| 3 石炭 | 4 天然ガス |

資料3



前回配った平成29年度学九の問題にまだいいがありました。スマセンでして、P5. P16のとこにこのポイントを書かえておいて下さい。みんなさん、す。

8

美奈子さんは、江戸幕府を開いた徳川家康の生涯についてまとめました。次の文章を読んで、あとの問いに答えなさい。

徳川家康は、a1543年、現在の愛知県岡崎市に生まれた。幼少期はb今川氏などの人質として過ごした。1562年、と同盟を結び、1575年には連合して長篠の戦いで武田氏を破った。1586年にはの家臣となり、1590年には関東へ移されて江戸城を居城とした。が死ぬと家臣内に対立が起こり、1600年、関ヶ原の戦いとなった。この戦いに勝利した家康は征夷大将軍に任命され、江戸に幕府を開いた。c1605年には將軍職を息子の秀忠にゆづったが、引き続き政治にかかわり、1615年にはd武家諸法度の作成を命じている。1616年、太政大臣となり、同年死去した。

※下線部aの1543年は新暦で表記してある。

(1) 文章中の, に当てはまる人物名を、フルネームでそれぞれ書きなさい。

⑨ 知 ⑩ 知

(2) 下線部aに起こったできごとを、次の1~4から1つ選びなさい。

⑪ 知

- 1 フランシスコ・ザビエルが来日し、キリスト教を伝えた。
- 2 マゼランの艦隊が世界一周に初めて成功した。
- 3 種子島に漂着した中国船に乗っていたポルトガル人が、鉄砲を伝えた。
- 4 足利義昭が京都から追放され、室町幕府が滅びた。

(3) 下線部bの領地では、右の資料1のよう

資料1

な法律が定められていました。領国支配のために定められ、領地内でのみ通用する資料1のような法律を何というか書きなさい。

いさかいをすれば、どのような理由であっても、両方とも死罪とする。  
(今川仮名目録)

⑫ 知

(4) 下線部cのころの貿易のようすを、次の1~4から1つ選びなさい。

⑬ 思

- 1 貿易はオランダと中国に限り、また、長崎でのみ許可した。
- 2 倭寇と正式な貿易船を区別するため勘合を用い、中国と貿易を行った。
- 3 九州を中心に、ポルトガル人やスペイン人との南蛮貿易がさかんになった。
- 4 東南アジアと朱印船により貿易をさかんに行い、日本町ができた。