
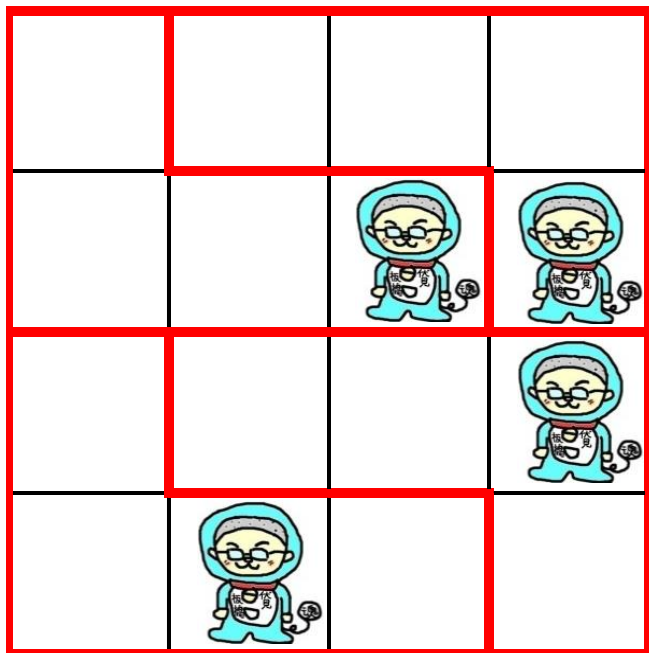


# ☆挑戦状☆（算数解答編⑧）

## ★同じ形に4等分するには？★

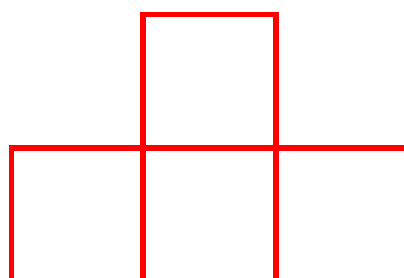
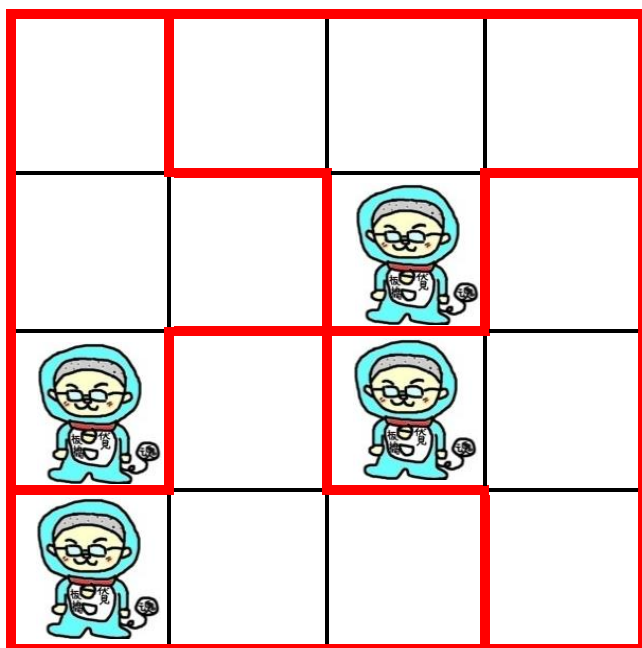
- ① タテに4こ、ヨコに4こならんだ16マスの正方形があります。マス目にそって切り、同じ形に4等分してください。のだエモンをかならずひとつの図形の中に1コ入れて下さい。のだエモンのない図形や2コ以上入った図形ではいけません。切り分けた図形のマスであればどのマスにのだエモンが入っていてもかまいません。

(1)



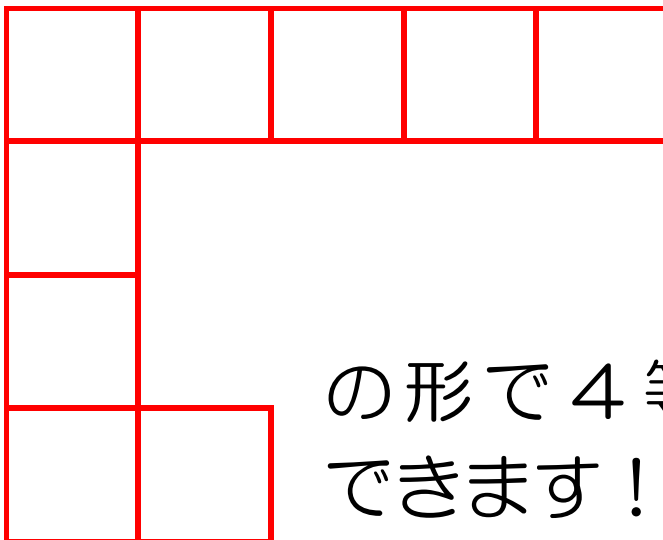
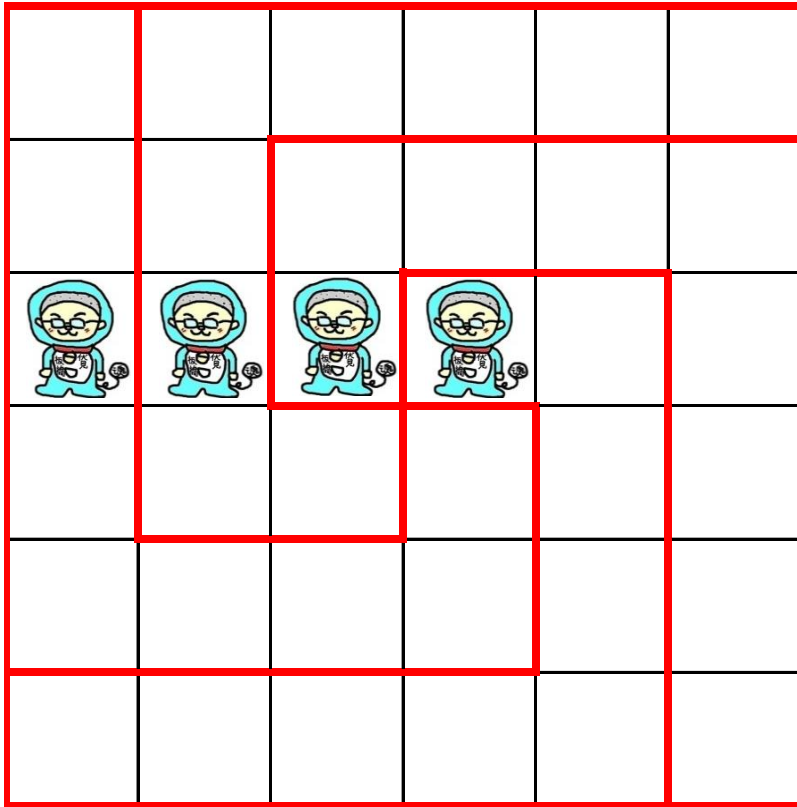
の形で4等分  
できます！

(2)



の形で4等分  
できます！

- ② タテに6こ、ヨコに6こならんだ36マスの正方形があります。マス目にそって切り、同じ形に4等分してください。のだエモンをかならずひとつの図形の中に1コ入れて下さい。のだエモンのない図形や2コ以上入った図形ではいけません。切り分けた図形のマスであればどのマスにのだエモンが入っていてもかまいません。



の形で4等分  
できます！

②は難しかったね！  
できた人は・・・かなりすごいよ！  
4等分チャンピオンエモンだね！

