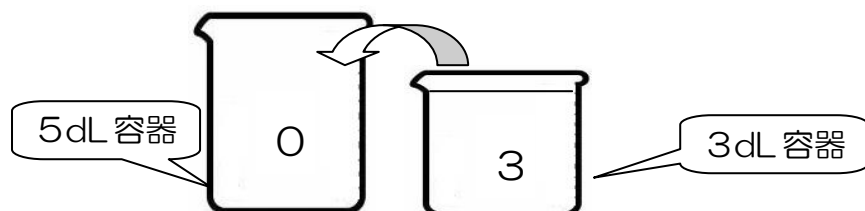


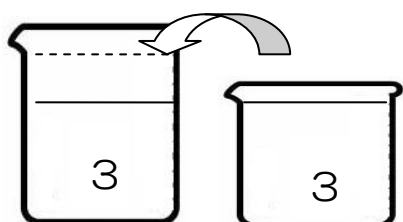
## ☆挑戦状☆（算数解答編⑦）

① 4dL をつくるには？

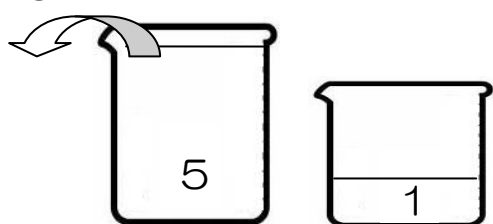
① 3dL 容器を満杯にする→5dL 容器に3dL 移す



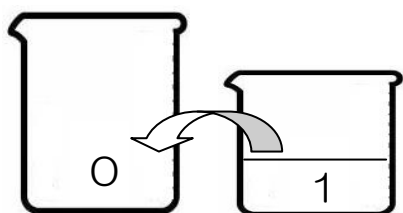
② 3dL 容器を満杯にする→5dL 容器に満杯まで移す



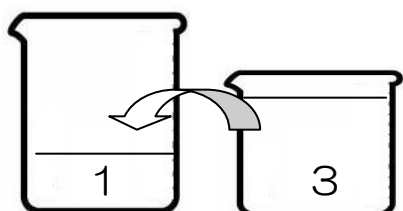
③ 3dL 容器に1dL 残る→5dL 容器を空にする



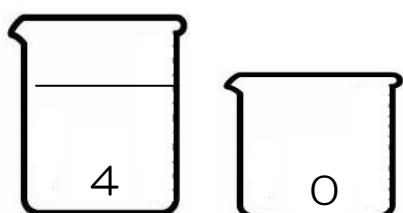
④ 5dL 容器に1dL 移す



⑤ 3dL 容器を満杯にする→5dL 容器に3dL 移す

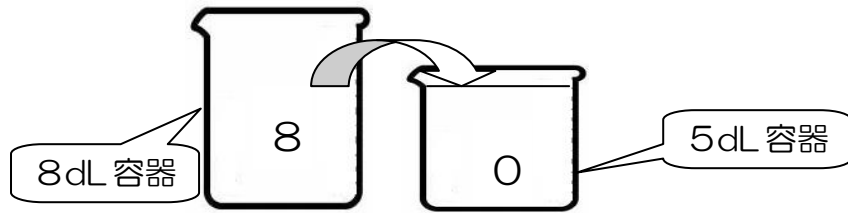


⑥ 5dL 容器に4dL ができる

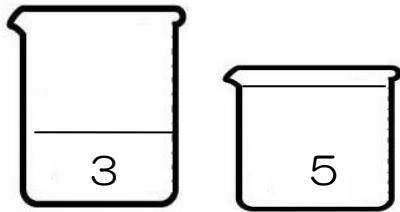


② 1 dL をつくるには？

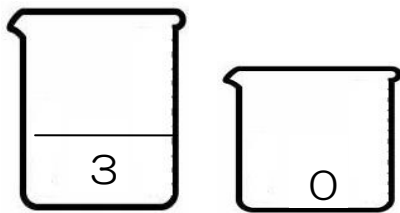
- ① 8dL 容器を満杯にする→5dL 容器に満杯まで移す



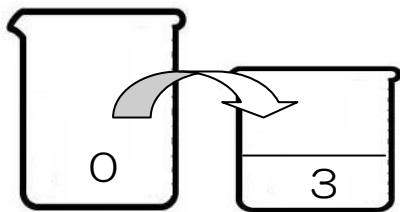
- ② 3dL 残る



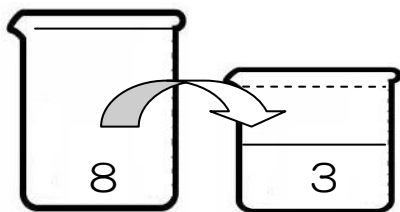
- ③ 5dL 容器を空にする



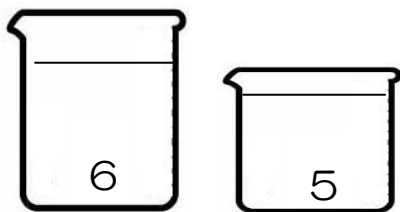
- ④ 5dL 容器に3dL 移す



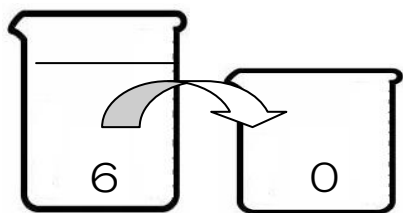
- ⑤ 8dL 容器を満杯にする→5dL 容器に満杯まで移す



- ⑥ 6dL 残る



- ⑦ 5dL 容器を空にする→5dL 容器に5dL 移す



- ⑧ 1dL 残る

