




## 野田衛門先生からの☆挑戦状☆（算数編⑦）

### ① 4dL をつくるには？


5dL と 3dL の容器を使って4dL の水を計量してください。

途中で水を容器から捨てることも可能です。ビーカーにはメモリはついていません。

5dL 容器



3dL 容器




### ② 1dL をつくるには？


8dL と 5dL の容器を使って1dL の水を計量してください。

途中で水を容器から捨てることも可能です。ビーカーにはメモリはついていません。

8dL 容器



5dL 容器



②は時間があれば，2～8dL の水の計量のしかたもそれぞれ考えてみてね！

